

سری سوال : یک ۱

زمان آزمون (دقیقه) : تستی : ۰ : تشریحی : ۱۲۰

تعداد سوالات : تستی : ۰ : تشریحی : ۴

عنوان درس : سازه های فولادی 1، طراحی اجرایی 2، طراحی اجرایی 2 و پروژه

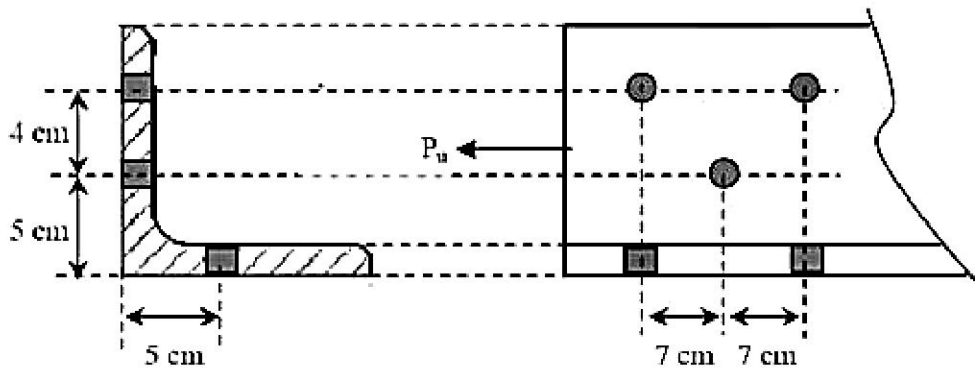
رشته تحصیلی/گد درس : مهندسی مدیریت اجرایی ۱۳۱۱۰۱۶ - ، مهندسی مدیریت پروژه ۱۳۱۲۰۴۲ - ، مهندسی عمران، مهندسی عمران - سازه ۱۳۱۳۰۶۰

استفاده از ماشین حساب مهندسی ، کتاب درسی ، کتاب قانون مجاز است

۲۰۱۰ شماره

۱- ظرفیت کششی نبشی اتصال را محاسبه کنید. نبشی L120\*120\*12 و پیچها از نوع M25 هستند. نبشی تحت کشش خالص قرار دارد.

$$A_g = 27.5 \text{ cm}^2 \text{ و } t = 1.2 \text{ cm. } F_Y = 2400 \text{ kg/cm}^2 \text{ و } F_U = 3700 \text{ kg/cm}^2$$



تعداد سوالات: تستی: ۰۰ تشریحی: ۴

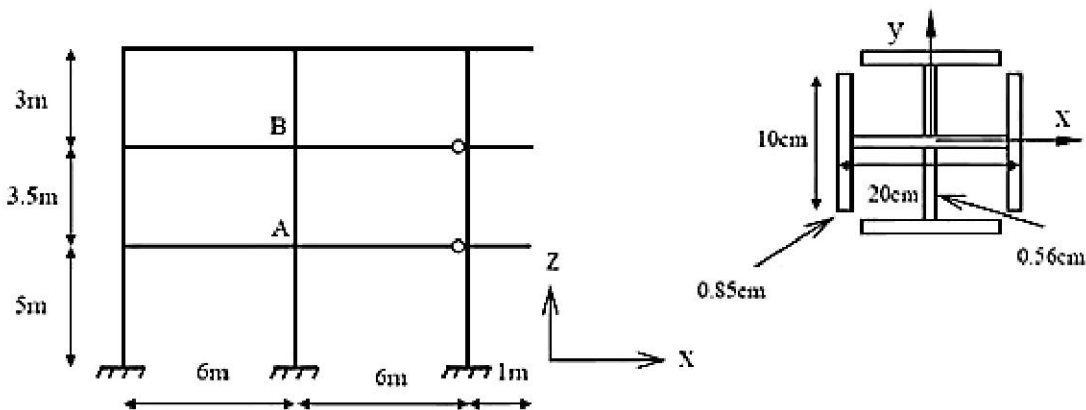
زمان آزمون (دقیقه): تستی: ۰۰ تشریحی: ۱۲۰

سری سوال: ۱ یک

عنوان درس: سازه های فولادی 1، طراحی اجرایی 2، طراحی اجرایی 2 پروژه

رشته تحصیلی/گد درس: مهندسی مدیریت اجرایی ۱۳۱۱۰۱۶ -، مهندسی مدیریت پروژه ۱۳۱۲۰۴۲ -، مهندسی عمران، مهندسی عمران - سازه ۱۳۱۳۰۶۰

۲- به ستون AB تشکیل شده از دو نیمرخ IPE200 که در قاب خمشی شکل زیر واقع است، نیروی محوری فشاری برابر با 85 تن وارد میشود. کفایت ستون برای نیروی فشاری را بررسی نمایید. تمام ستونهای قاب از مقطع صلیبی طبق شکل زیر و تمام تیرهای قاب از مقطع IPE240 هستند. قاب عمود بر صفحه، دارای مهاربندی است. به اتصال مفصلی تیرها توجه کنید. جوش اتصال دو مقطع بصورت سرتاسری است.



برای نیمرخ صلیبی این مساله:

$$E=2100000\text{kg/cm}^2 \quad G=808000\text{kg/cm}^2 \quad A=57\text{cm}^2 \quad I_x \approx I_y=2082\text{cm}^4 \quad J=10.43\text{cm}^4 \quad C_w=26810\text{cm}^6$$

رابطه تعیین ضریب طول موثر برای قاب دارای حرکت جانبی:

$$K_{AB} = \sqrt{\frac{1.6G_A G_B + 4(G_A + G_B) + 7.5}{G_A + G_B + 7.5}}$$

برای مقطع IPE240:  $I_x=3890\text{cm}^4$

سری سوال: ۱ یک

زمان آزمون (دقیقه): تستی: ۰۰ تشریحی: ۱۲۰

تعداد سوالات: تستی: ۰۰ تشریحی: ۴

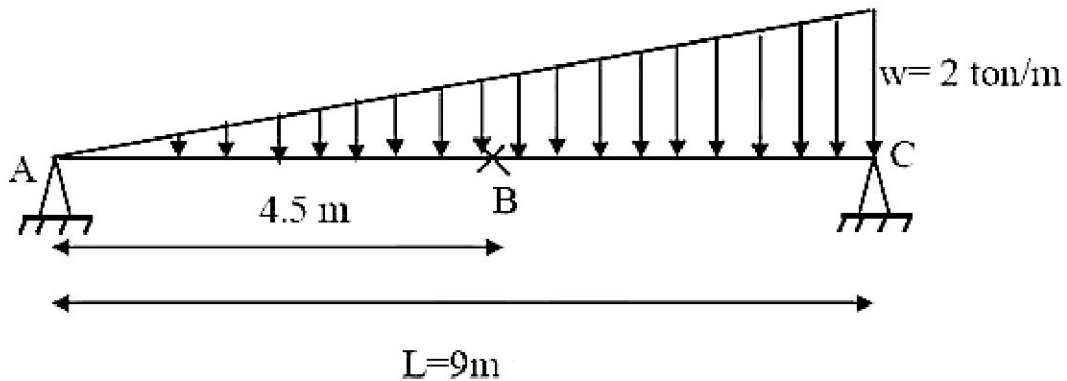
عنوان درس: سازه های فولادی ۱، طراحی اجرایی ۲، طراحی اجرایی ۲ پروژه

رشته تحصیلی/گد درس: مهندسی مدیریت اجرایی ۱۳۱۱۰۱۶ -، مهندسی مدیریت پروژه ۱۳۱۲۰۴۲ -، مهندسی عمران، مهندسی عمران - سازه ۱۳۱۳۰۶۰

نمره ۴.۲۰

۳- بزرگترین مقطع موجود در بازار، IPE240 است. کفایت تیر شکل زیر از این مقطع برای لنگر خمشی موجود را کنترل نموده و در صورت لزوم ابعاد ورق تقویتی لازم با ضخامت 10 میلیمتر را تعیین کنید. لازم نیست محل ورق تقویتی را مشخص کنید. تیر در نقطه B دارای مهار برای کمانش جانبی است. در طراحی تیر تقویت شده، مقاومت نهایی خمشی مقطع مرکب را برابر  $0.75M_p$  در نظر بگیرید.

$$L_r = 458.6 \text{ cm}, \quad L_p = 138.3 \text{ cm}, \quad F_y = 2400 \text{ kg/cm}^2, \quad Z_x = 346 \text{ cm}^3$$



نمره ۳.۵۰

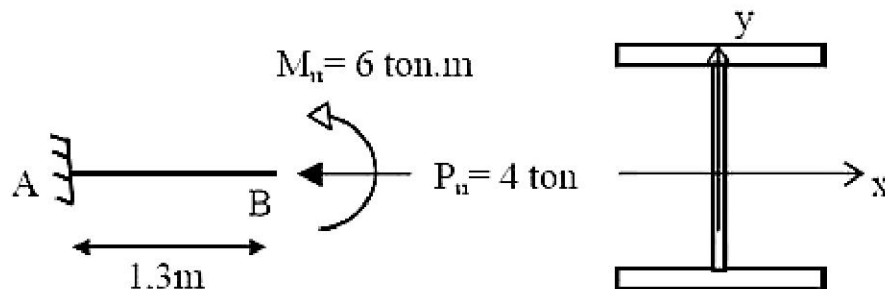
۴- برای عضو سازه ای AB، از مقطع IPE240 استفاده شده است. کفایت مقطع را کنترل کنید.

$$E = 21000000 \text{ kg/cm}^2, \quad G = 8080000 \text{ kg/cm}^2$$

برای مقطع IPE240:

$$L_p = 138.3 \text{ cm}, \quad I_y = 284 \text{ cm}^4, \quad I_x = 3890 \text{ cm}^4, \quad J = 9.28 \text{ cm}^4, \quad C_w = 37624 \text{ cm}^6, \quad A = 39.1 \text{ cm}^2$$

$$r_y = 2.70 \text{ cm}, \quad r_x = 9.90 \text{ cm}$$





تعداد سوالات: تستی: -- تشریحی: 4

زمان آزمون (دقیقه): تستی: -- تشریحی: 120

نام درس: سازه های فولادی 1، طراحی اجرایی 2، طراحی اجرایی 2 و پروژه  
 رشته تحصیلی / کُد درس: مهندسی مدیریت اجرایی 1311016 - مهندسی مدیریت پروژه 1312042 - عمران سازه - 1313060

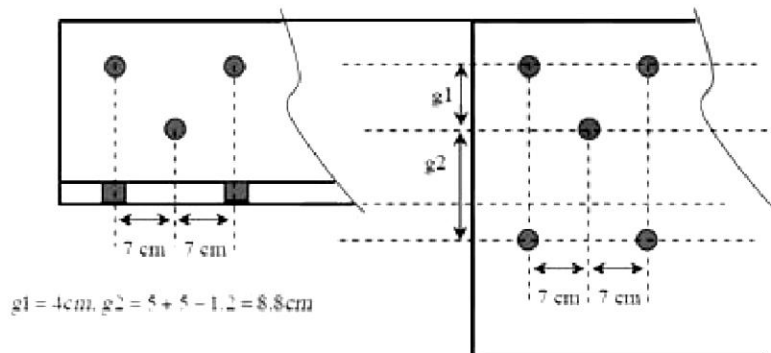
استفاده از: کتاب درسی ماشین حساب و کتاب قانون مجاز است.

پاسخ سوال 1-

دو ضابطه حد تسلیم و حد نهایی باید کنترل شود.  
 برای حد تسلیم:

$$P_{U1} = \phi_{t1} A_g F_y = 0.9 \times 27.5 \times 2400 = 59400 \text{ kg}$$

برای حد نهایی باید سطح مقطع خالص موثر حساب شود. چون اتصال از هر دو  
 بال صورت گرفته  $U=1$  و بنابراین کفایت سطح مقطع خالص با توجه به بدترین  
 وضعیت ممکن گسیختگی حساب شود:



مسیر 1 گسیختگی: مسیر قائم با 2 سوراخ:

$$A_n = 27.5 - 1.2 \times [2 \times (2.5 + 0.3 + 0.2)] = 20.3 \text{ cm}^2$$

مسیر 2 گسیختگی: مسیر مایل با 3 سوراخ:

$$A_n = 27.5 - 1.2 \times [3 \times (2.5 + 0.3 + 0.2)] + 1.2 \times \left[ \frac{7^2}{4 \times 4} + \frac{7^2}{4 \times 8.8} \right] = 22.04 \text{ cm}^2$$

پس مسیر 1 بحرانی تر است.

$$P_{U2} = \phi_{t2} A_e F_U = 0.75 \times 20.3 \times 3700 = 56333 \text{ kg}$$

$$P_U = \min \{ P_{U1}, P_{U2} \} = 56333 \text{ kg}$$



تعداد سوالات: تستی: -- تشریحی: 4

زمان آزمون (دقیقه): تستی: -- تشریحی: 120

نام درس: سازه های فولادی 1، طراحی اجرایی 2، طراحی اجرایی 2 و پروژه  
 رشته تحصیلی / کُد درس: مهندسی مدیریت اجرایی 1311016 - مهندسی مدیریت پروژه 1312042 - عمران سازه - 1313060

مجاز است.

استفاده از:

پاسخ سوال 2-

چون قاب عمود بر صفحه مهاربندی شده است،  $K_x=1$ . بنابراین لازم است مقدار  $K_y$  را برای ستون تعیین کرد. چون هر دو پروفیل غیر لاغر هستند و جوش اتصال هم سرتاسری است، مقطع صلیبی غیر لاغر است. محاسبه شعاع ژیراسیون:

$$r_x \approx r_y = \sqrt{\frac{2082}{57}} = 6.04 \text{ cm}$$

محاسبه  $K_y$  (نکته: چون انتهای دور تیر سمت راست ستون مفصلی است، ضریب  $5/0$  در سختی آن ضرب می شود):

$$G_A = \frac{\left(\sum EI/L\right)_{Columns}}{\left(\sum EI/L\right)_{Beams}} = \frac{2082/500 + 2082/350}{3890/600 + 0.5 \times 3890/600} = 1.04$$

$$G_B = \frac{\left(\sum EI/L\right)_{Columns}}{\left(\sum EI/L\right)_{Beams}} = \frac{2082/350 + 2082/300}{3890/600 + 0.5 \times 3890/600} = 1.33$$

$$K_{yAB} = \sqrt{\frac{1.6 \times 1.04 \times 1.33 + 4 \times (1.04 + 1.33) + 7.5}{1.04 + 1.33 + 7.5}} = 1.394$$

محاسبه ضرایب لاغری حول دو محور اصلی:

$$\left(\frac{KL}{r}\right)_x = \frac{1 \times 350}{6.04} = 57.95 \quad , \quad \left(\frac{KL}{r}\right)_y = \frac{1.394 \times 350}{6.04} = 80.78$$

بنابراین لاغری حول محور  $y$  حاکم بر طراحی است. با مراجعه به جدول ۱-۴-۲-۱۰، برای این مقطع باید کمانش خمشی و پیچشی را کنترل کرد: کنترل کمانش خمشی:

$$F_e = \frac{\pi^2 E}{\left(\frac{KL}{r}\right)^2} = \frac{\pi^2 \times 2.1e6}{80.78^2} = 3176.23 \text{ kg/cm}^2$$

$$\frac{F_y}{F_e} = \frac{2400}{3176.23} = 0.7556 < 2.25 \rightarrow F_{cr1} = [0.658^{0.7556}] \times 2400 = 1749.28 \text{ kg/cm}^2$$

کنترل کمانش پیچشی:



تعداد سوالات: تستی: -- تشریحی: 4

زمان آزمون (دقیقه): تستی: -- تشریحی: 120

نام درس: سازه های فولادی 1، طراحی اجرایی 2، طراحی اجرایی 2 و پروژه  
 رشته تحصیلی / کُد درس: مهندسی مدیریت اجرایی 1311016 - مهندسی مدیریت پروژه 1312042 - عمران سازه - 1313060

مجاز است.

استفاده از:

$$F_e = \left[ \frac{\pi^2 EC_w}{(K_z L)^2} + GJ \right] \left( \frac{1}{I_x + I_y} \right) = 3113.23 \text{ kg/cm}^2$$

$$\frac{F_y}{F_e} = \frac{2400}{3113.23} = 0.7709 < 2.25 \rightarrow F_{cr2} = [0.658^{0.7709}] \times 2400 = 1738.12 \text{ kg/cm}^2$$

بنابراین کمانش پیچشی حاکم می شود. ظرفیت نهایی فشاری مقطع عبارت است از:

$$P_U = \phi_c F_{cr} A_g = 0.9 \times 1738.12 \times 57 = 89166 \text{ kg} = 89.166 \text{ ton} < 85 \text{ ton}$$

بنابراین مقطع کفایت فشاری لازم را داراست.

پاسخ سوال 3-

کفایت تیر در هر دو ناحیه AB و BC بطور جداگانه باید کنترل شود. برای تعیین مقدار لنگر در هر نقطه، معادله لنگر را باید نوشت. این معادله عبارت است از:

$$M(x) = 3x - x^3/27$$

حالت حدی تسلیم:

$$M_n = M_p = ZF_y = 346 \times 2400 = 8.304 \text{ ton.m}$$

$$\phi_b M_n = 0.9 \times 8.304 = 7.47 \text{ ton.m}$$

حالت حدی کمانش پیچشی - جانبی:

چون  $L_p < L_b < L_r$ ، مقدار ظرفیت خمشی از رابطه 4-5-2-10 بدست می آید و در نتیجه نیاز به تعیین  $C_b$  در هر دو قسمت طول مهارنشده است. نقاط A، B و C

بیانگر یک چهارم، یک دوم و سه چهارم طول AB و نقاط A، B و C بیانگر یک-چهارم، یک دوم و سه چهارم طول BC هستند. برای ناحیه AB، مقادیر لنگر،  $C_b$  و ظرفیت خمشی عبارتند از:



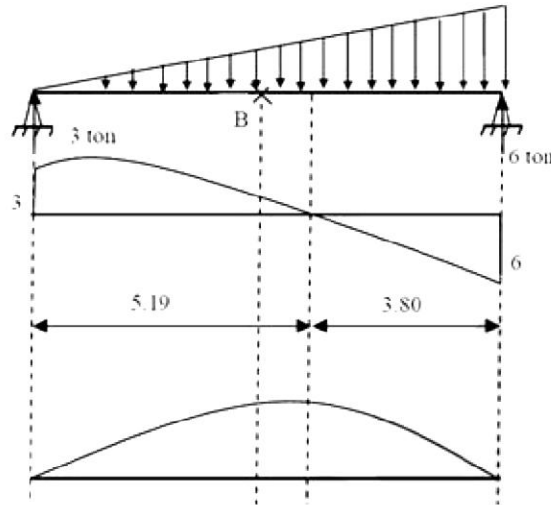
تعداد سوالات: تستی: -- تشریحی: 4

زمان آزمون (دقیقه): تستی: -- تشریحی: 120

نام درس: سازه های فولادی 1، طراحی اجرایی 2، طراحی اجرایی 2 و پروژه  
 رشته تحصیلی / کُد درس: مهندسی مدیریت اجرایی 1311016- مهندسی مدیریت پروژه 1312042- عمران سازه- 1313060

مجاز است.

استفاده از:



$$\left. \begin{aligned} M_{A'} &= M(x=1.125m) = 3.32 \text{ ton.m} \\ M_{B'} &= M(x=2m) = 6.33 \text{ ton.m} \\ M_{C'} &= M(x=3.3745m) = 8.70 \text{ ton.m} \\ M_{\max-AB'} &= M_B = 10.125 \text{ ton.m} \end{aligned} \right\} \rightarrow C_b = 1.46 \rightarrow M_n = C_b \left[ M_p - (M_p - 0.7F_y S_x) \left( \frac{L_b - L_p}{L_r - L_p} \right) \right] = 6.46 \text{ ton.m} < M_p$$

$$\rightarrow M_n = 6.46 \text{ ton.m} \rightarrow M_c = \phi_b M_n = 0.9 \times 6.46 = 5.82 \text{ ton.m}$$

برای ناحیه BC، مقادیر لنگر،  $C_b$  و ظرفیت خمشی عبارتند از:

$$\left. \begin{aligned} M_{A''} &= M(x=5.625m) = 10.28 \text{ ton.m} \\ M_{B''} &= M(x=6.75m) = 8.86 \text{ ton.m} \\ M_{C''} &= M(x=7.875m) = 5.54 \text{ ton.m} \\ M_{\max-BC} &= M(x=5.19) = 10.39 \text{ ton.m} \end{aligned} \right\} \rightarrow C_b = 1.19 \rightarrow M_n = C_b \left[ M_p - (M_p - 0.7F_y S_x) \left( \frac{L_b - L_p}{L_r - L_p} \right) \right] = 6.57 \text{ ton.m} < M_p$$

$$\rightarrow M_c = \phi_b M_n = 0.9 \times 6.57 = 5.91 \text{ ton.m}$$

بنابراین با توجه به مقادیر بیشینه لنگرهای موجود در نواحی AB و BC، هر دو قسمت لازم است با ورق تقویت شود.  
 در قسمت AB:

مقدار لنگر مقاوم مورد نیاز که ورق باید تامین کند:

$$M_{req} = 10.25 - 5.82 = 4.43 \text{ ton.m} = Z_{PL} F_y \frac{0.75 M_p}{M_p} \rightarrow Z_{PL} = 246 \text{ cm}^3$$

$$Z_{PL} \cong A_p d = A_p \times 24 \rightarrow A_p = 10.25 \text{ cm}^2$$



تعداد سوالات: تستی: -- تشریحی: 4

زمان آزمون (دقیقه): تستی: -- تشریحی: 120

نام درس: سازه های فولادی 1، طراحی اجرایی 2، طراحی اجرایی 2 و پروژه  
 رشته تحصیلی / کُد درس: مهندسی مدیریت اجرایی 1311016 - مهندسی مدیریت پروژه 1312042 - عمران سازه - 1313060

مجاز است.

استفاده از:

با توجه به ضخامت بال مقطع، با فرض ضخامت 10 میلیمتر برای ورق، عرض ورق تقویتی خواهد بود:  $b=10.25\text{cm}$ . بنابراین از دو ورق  $PL110*10\text{mm}$  در بالا و پایین تیر استفاده می‌کنیم.  
 در قسمت BC:

مقدار لنگر مقاوم مورد نیاز که ورق باید تامین کند:

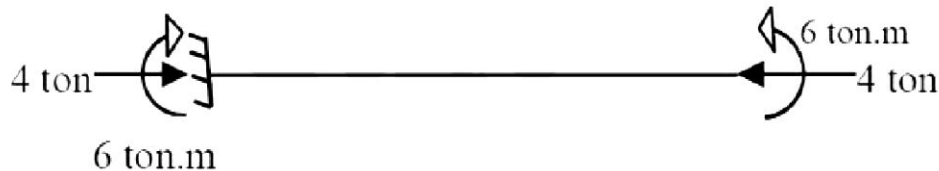
$$M_{req} = 10.39 - 5.91 = 4.48 \text{ ton.m} = Z_{PL} F_y \frac{0.75 M_p}{M_p} \rightarrow Z_{PL} = 249 \text{ cm}^3$$

$$Z_{PL} \cong A_p d = A_p \times 24 \rightarrow A_p = 10.37 \text{ cm}^2$$

با توجه به ضخامت بال مقطع، با فرض ضخامت 10 میلیمتر برای ورق، عرض ورق تقویتی خواهد بود:  $b=10.37\text{cm}$ . بنابراین از دو ورق  $PL110*10\text{mm}$  در بالا و پایین تیر استفاده می‌کنیم.

پاسخ سوال 4-

عضو به شکل زیر تحت نیروی محوری فشاری و لنگر خمشی قرار خواهد گرفت:

الف- تعیین ظرفیت فشاری. چون المان طره است  $K=2$ 

$$\left(\frac{KL}{r}\right)_x = \frac{2 \times 130}{9.97} = 26.08 \quad , \quad \left(\frac{KL}{r}\right)_y = \frac{2 \times 130}{2.70} = 96.30$$

بر اساس کمانش خمشی:

$$\left(\frac{KL}{r}\right)_{\max} = \left(\frac{KL}{r}\right)_y = 96.30 < 4.71 \sqrt{\frac{E}{F_y}} \rightarrow F_{cr} = [0.658^{F_y/F_c}] F_y$$

$$F_c = \frac{\pi^2 E}{\left(\frac{KL}{r}\right)^2} = 2235 \text{ kg/cm}^2 \rightarrow F_{cr} = 1531 \text{ kg/cm}^2 \rightarrow P_{cl} = \phi_c F_{cr} A_g = 0.9 \times 1531 \times 39.1 = 53.88 \text{ ton}$$

بر اساس کمانش پیچشی:





تعداد سوالات: تستی: -- تشریحی: 4

زمان آزمون (دقیقه): تستی: -- تشریحی: 120

نام درس: سازه های فولادی 1, طراحی اجرایی 2, طراحی اجرایی 2 و پروژه  
 رشته تحصیلی / کُد درس: مهندسی مدیریت اجرایی 1311016- مهندسی مدیریت پروژه 1312042- عمران سازه- 1313060

استفاده از:

مجاز است.

$$F_e = \left[ \frac{\pi^2 EC_w}{(K_z L)^2} + GJ \right] \left( \frac{1}{I_x + I_y} \right) = \left[ \frac{\pi^2 \times 2.1e6 \times 37624}{(1 \times 130)^2} + 808000 \times 9.28 \right] \left( \frac{1}{3890 + 284} \right) = 11055 \text{ kg/cm}^2$$

$$\frac{F_y}{F_e} = 0.217 < 2.25 \rightarrow F_{cr} = [0.658^{0.217}] \times 2400 = 2192 \text{ kg/cm}^2$$

$$P_{c2} = 0.9 \times 221e6 \times 39.1e-4 = 77.12 \text{ ton}$$

بنابراین:  $P_c = P_{c1} = 53.88 \text{ ton}$ ب- تعیین ظرفیت خمشی. چون  $L_b < L_p$ , فقط لازم است حالت حدی تسلیم کنترل شود:

$$M_n = M_p = ZF_y = 346 \times 2400 = 8.304 \text{ ton.m} \rightarrow M_c = 0.9 \times 8.304 = 7.47 \text{ ton.m}$$

پ- کنترل روابط اندرکنشی:

$$\frac{P_u}{P_c} = \frac{4}{53.88} = 0.074 \rightarrow \frac{P_u}{2P_c} + \frac{M_{ux}}{M_{cx}} = \frac{4}{2 \times 53.88} + \frac{6}{7.47} = 0.84 < 1$$

بنابراین مقطع دارای کفایت لازم است.