

تعداد سوالات: تستی: ۳۰ تشریحی: ۰

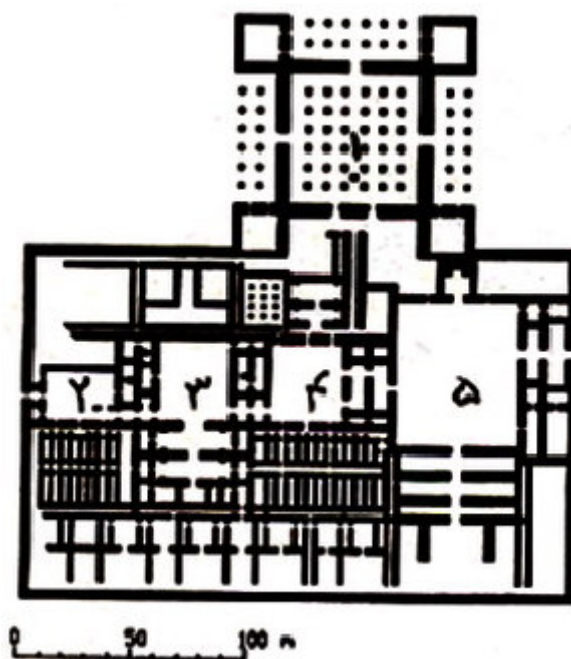
زمان آزمون (دقیقه): تستی: ۵۰ تشریحی: ۰

سری سوال: یک ۱

درس: آشنایی با معماری اسلامی، آشنایی با معماری اسلامی

رشته تحصیلی/کد درس: مهندسی معماری ۱۱۲۰۰۲۰ - مهندسی معماری، مهندسی معماری ۱۸۱۴۰۳۷

۱- تصویر ذیل مربوط به نقشه کدام بنا می باشد؟



۰۴ کاخ سروستان

۰۳ پاسارگاد

۰۲ تخت جمشید

۰۱ کاخ شوش

۲- کدام یک از موارد زیر از ویژگی های شیوه پارسی نمی باشد؟

۰۲ دیوارهای جداکننده با سنگ

۰۱ ساخت ساختمان روی سکو و تختگاه

۰۴ ساخت سایبان و آفتابگیر در جاهای ضروری

۰۳ بهره گیری از آسمانه خمیده و تاق در زیر زمین

تعداد سوالات: تستی: ۳۰ تشریحی: ۰

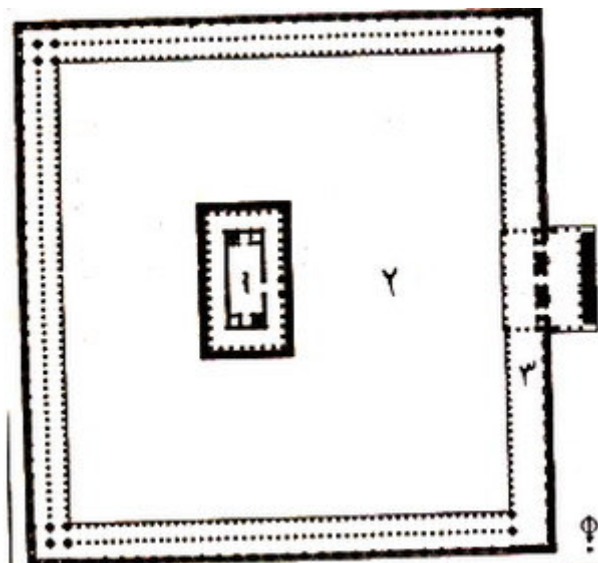
زمان آزمون (دقیقه): تستی: ۵۰ تشریحی: ۰

سری سوال: ۱ یک

درس: آشنایی با معماری اسلامی، آشنایی با معماری اسلامی

رشته تحصیلی/کد درس: مهندسی معماری ۱۱۲۰۰۲۰ - مهندسی معماری، مهندسی معماری ۱۸۱۴۰۳۷

۳- تصویر ذیل مربوط به نقشه کدام بنا می باشد؟



۰۴ آتشکده نیاسر

۰۳ مسجد مدینه

۰۲ معبد آناهیتا

۰۱ تخت سلیمان

۴- کدام یک از موارد زیر مربوط به ویژگی های معماری دوره پارتی است؟

۰۲ گچ بری با خطوط شکسته و خمیده

۰۱ برونگرایی

۰۴ یادجفت سازی در نیایشگاهها

۰۳ جفت سازی در خانهها

۵- در کدام یک از شیوه های معماری اسلامی اصل مردم واری بیشتر رعایت شده است؟

۰۴ اصفهانی

۰۳ آذری

۰۲ رازی

۰۱ خراسانی

تعداد سوالات: تستی: ۳۰ تشریحی: ۰

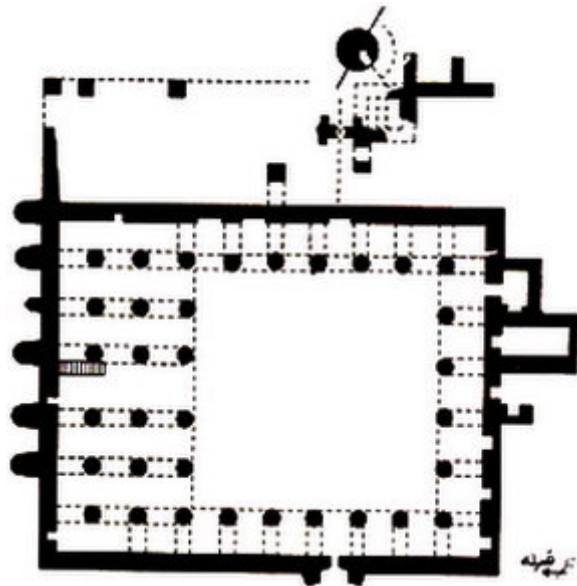
زمان آزمون (دقیقه): تستی: ۵۰ تشریحی: ۰

سری سوال: ۱ یک

درس: آشنایی با معماری اسلامی، آشنایی با معماری اسلامی

رشته تحصیلی/کد درس: مهندسی معماری ۱۱۲۰۰۲۰ - مهندسی معماری، مهندسی معماری ۱۸۱۴۰۳۷

۶- نقشه ذیل مربوط به کدام بنا می باشد؟



۰۱ مسجد جامع نیریز

۰۲ مسجد جامع تاریخانه دامغان

۰۳ مسجد جامع زواره

۰۴ مسجد جامع اردستان

۷- جهت قبله مسجد کهن جامع اصفهان با جهت کنونی چند درجه اختلاف دارد؟

۰۱ ۱۰ تا ۱۰ درجه

۰۲ ۱۰ تا ۲۰ درجه

۰۳ ۲۰ تا ۳۰ درجه

۰۴ ۳۰ تا ۴۰ درجه

۸- برای نخستین بار در کدام یک از بناهای زیر چفدهای مازهدار به تیزهدار تبدیل شده‌اند؟

۰۱ مسجد جامع فهرج

۰۲ مسجد جامع تاریخانه دامغان

۰۳ مسجد جامع اردستان

۰۴ مسجد جامع نایین

۹- در معماری سنتی ایران به ایوانهای تک و تالارهای منفرد چه می گفتند؟

۰۱ کلاوه

۰۲ هولی

۰۳ گیری

۰۴ پالار

۱۰- کدام یک از بناهای زیر را می توان بین دو شیوه رازی و خراسانی قرار داد؟

۰۱ گور امیر اسمعیل سامانی

۰۲ میل رادکان

۰۳ گور بابا رکن الدین

۰۴ میل رسکت

تعداد سوالات: تستی: ۳۰ تشریحی: ۰

زمان آزمون (دقیقه): تستی: ۵۰ تشریحی: ۰

سری سوال: ۱ یک

درس: آشنایی با معماری اسلامی، آشنایی با معماری اسلامی

رشته تحصیلی/کد درس: مهندسی معماری ۱۱۲۰۰۲۰ - مهندسی معماری، مهندسی معماری ۱۸۱۴۰۳۷

۱۱- نخستین نمونه گنبد گسسته نار در کدام بنا به کار رفته است؟

- ۰۱ گنبد تاج الملک ۰۲ مقبره شاه اسمعیل ۰۳ گنبد نظام الملک ۰۴ برجهای خرقان

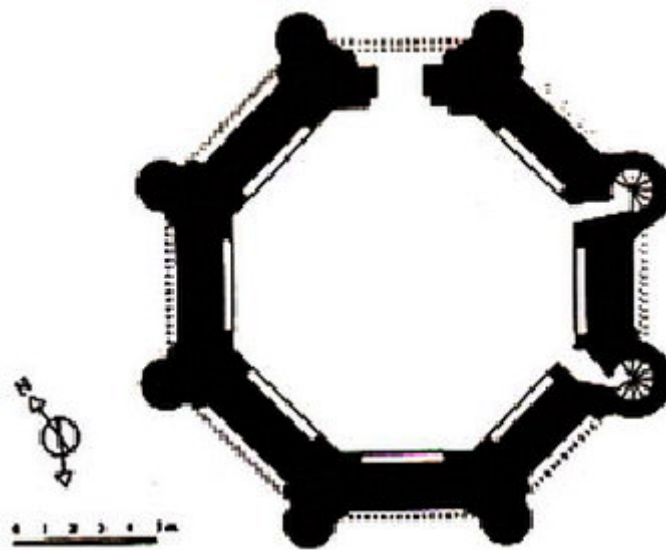
۱۲- گره سازی در هم با آجر و کاشی را چه می گویند؟

- ۰۱ معقلی ۰۲ آمود ۰۳ زمودگری ۰۴ معرق

۱۳- پوشش پوسته زیرین گنبد قابوس از چه نوعی است؟

- ۰۱ رک ۰۲ بستو ۰۳ نار ۰۴ بیز

۱۴- نقشه ذیل مربوط به کدام بنا می باشد؟



- ۰۱ مقبره ارسلان جاذب ۰۲ گنبد ۱۲ امام یزد ۰۳ برج خرقان ۰۴ برج لاجیم

۱۵- دار الشتا یا تالار زمستانی مسجد جامع اصفهان در چه دوره ای ساخته شد؟

- ۰۱ سلجوقیان ۰۲ ایلخانیان ۰۳ آل مظفر ۰۴ تیموریان

۱۶- گنبدی که با چفد چمانه زده می شود چه نام دارد؟

- ۰۱ شبدری ۰۲ سبویی ۰۳ ترکین ۰۴ کلیل

۱۷- در مجموعه آرامگاه شیخ صفی الدین اردبیلی کدام بنا جدیدتر ساخته شده است؟

- ۰۱ مسجد جنت سر ۰۲ قندیل خانه ۰۳ مقبره شیخ صفی ۰۴ چینی خانه

تعداد سوالات: تستی: ۳۰ تشریحی: ۰

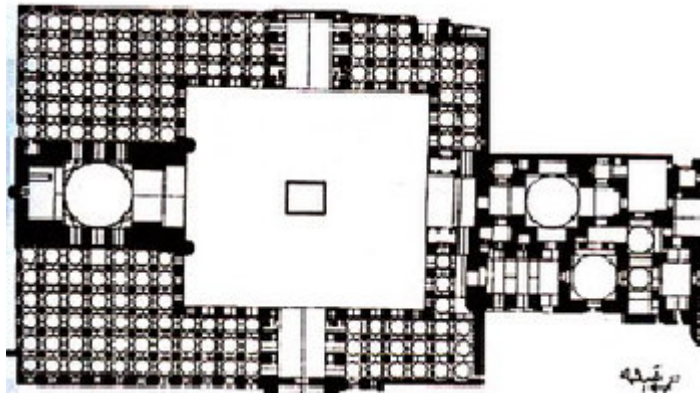
زمان آزمون (دقیقه): تستی: ۵۰ تشریحی: ۰

سری سوال: ۱ یک

درس: آشنایی با معماری اسلامی، آشنایی با معماری اسلامی

رشته تحصیلی/کد درس: مهندسی معماری ۱۱۲۰۰۲۰ - مهندسی معماری، مهندسی معماری ۱۸۱۴۰۳۷

۱۸- تصویر ذیل مربوط به نقشه کدام بنا می باشد؟



- ۰۱ مسجد میرچخماق ۰۲ مسجد گوهرشاد ۰۳ مسجد کالیان ۰۴ مسجد بی بی خانم

۱۹- در میان مدرسه های ایران، کدام یک از جهت دقت و تنوع در نقشه و آمود بالاتر است؟

- ۰۱ مدرسه خان شیراز ۰۲ مدرسه آقابرگ کاشان
۰۳ مدرسه غیاثیه خرگرد ۰۴ مدرسه چهارباغ اصفهان

۲۰- کدام یک از موارد زیر از ویژگی های شیوه اصفهانی است؟

- ۰۱ گچ بری های پیچیده ۰۲ بهره گیری از هندسه قوی و طرحهای پیچیده
۰۳ رایج شدن ساخت گوشه های پخ در ساختمان ۰۴ بیشتر شدن نخیر و نهاز در تهرانگ ساختمانها

۲۱- معمار مسجد امام اصفهان کیست؟

- ۰۱ استاد محمدرضا اصفهانی ۰۲ استاد علی اکبر اصفهانی
۰۳ استاد حسین شمعی زاده ۰۴ استاد محمدعلی اصفهانی

۲۲- مدرسه خان شیراز چند راهرو دارد؟

- ۰۱ ۵ ۰۲ ۸ ۰۳ ۱۰ ۰۴ ۱۲

۲۳- کدام بنا آواز قوی معماری شیوه اصفهانی می باشد؟

- ۰۱ مسجد شیخ لطف الله ۰۲ مسجد امام ۰۳ مدرسه چهارباغ ۰۴ عمارت عالی قاپو

تعداد سوالات: تستی: ۳۰ تشریحی: ۰

زمان آزمون (دقیقه): تستی: ۵۰ تشریحی: ۰

سری سوال: ۱ یک

درس: آشنایی با معماری اسلامی، آشنایی با معماری اسلامی

رشته تحصیلی/کد درس: مهندسی معماری ۱۱۲۰۰۲۰ - مهندسی معماری، مهندسی معماری ۱۸۱۴۰۳۷

۲۴- در عمارت شمس العماره تهران چه چفدهایی در نمای ساختمان به کار رفته است؟

- ۰۱ نیم دایره ۰۲ پنج او هفت ۰۳ بیز ۰۴ کلیل

۲۵- اوج بی بدیل تزیینات در معماری اسلامی ایران کدام است؟

- ۰۱ گچ بری ۰۲ آجرکاری ۰۳ آینه کاری ۰۴ کاشی کاری

۲۶- مهمترین اصل بنیانی از منظر اسلامی در خلق آثار معماری چیست؟

- ۰۱ سلسه مراتب ۰۲ عدالت مداری ۰۳ مرکز گرایی ۰۴ مفهوم گرایی

۲۷- از دیدگاه نادر اردلان در کتاب «حس وحدت»، کدام یک از نظام های زیر نمودار ظهور «وحدت در وحدت» است؟

- ۰۱ نظام طبیعی ۰۲ نظام هماهنگ ۰۳ نظام هندسی ۰۴ نظام کیهانی

۲۸- در معماری اسلامی اصالت با چیست؟

- ۰۱ فضای مثبت-کالبد ساختمان ۰۲ فضای مثبت-جایگاه حضور انسان
۰۳ فضای منفی-کالبد ساختمان ۰۴ فضای منفی-جایگاه حضور انسان

۲۹- کاخ الحمراء مربوط کدام یک از شیوه های معماری اسلامی می باشد؟

- ۰۱ مصری ۰۲ شامی ۰۳ مغربی ۰۴ ایرانی

۳۰- استفاده از پیمون مربوط به کدام یک از اصول معماری ایرانی است؟

- ۰۱ مردم واری ۰۲ پرهیز از بیهودگی ۰۳ خود بسندگی ۰۴ نیارش