

تعداد سوالات: تستی: ۴۰ تشریحی: ۰

زمان آزمون (دقیقه): تستی: ۱۲۰ تشریحی: ۰

درس: اقتصاد کلان ۲، اقتصاد کلان میانه ۲

سری سوال: یک ۱

رشته تحصیلی/کد درس: علوم اقتصادی (اقتصاد نظری) (۱۲۲۱۰۸۹ - علوم اقتصادی، علوم اقتصادی (نظری) چندبخشی، اقتصاد اسلامی ۱۲۲۱۱۲۴)

استفاده از ماشین حساب ساده مجاز است

۱- اگر حجم نقدینگی برابر ۱۲۰۰ واحد و حجم پول برابر ۸۰۰ واحد باشد کدام گزینه حجم شبه پول را نشان می دهد؟

۱. ۶۰۰ ۲. ۱۰۰۰ ۳. ۲۰۰۰ ۴. ۴۰۰

۲- در تحلیل کینز که صرفاً دو دارایی پول و اوراق قرضه وجود دارد و بازار مالی شامل دو بازار پول و اوراق قرضه است اگر تقاضای حقیقی پول و اوراق قرضه به ترتیب برابر ۵۰۰ و ۱۰۰۰ واحد باشد کدام گزینه به ترتیب مقادیر عرضه حقیقی پول و اوراق قرضه را در شرایط تعادلی نشان می دهد؟

۱. ۷۵۰-۷۵۰ ۲. ۱۰۰۰-۱۰۰۰ ۳. ۵۰۰-۵۰۰ ۴. ۵۰۰-۲۰۰۰

۳- یکی از موارد رایج ترکیب سیاست پولی و مالی افزایش هزینه های دولت و افزایش همزمان عرضه حقیقی پول است این نوع سیاست چه نام دارد؟

۱. همسازی مالی ۲. همسازی نرخ ارز
۳. همسازی پولی ۴. همسازی نرخ دستمزد و نرخ تورم

۴- کدام گزینه صحیح است؟

۱. سیاست مالی در سیستم نرخ ارز شناور دارایی کارایی زیادی در تغییر Y است.
۲. سیاست پولی در سیستم نرخ ارز شناور دارایی کارایی زیادی در تغییر Y است.
۳. سیاست پولی در سیستم نرخ ارز شناور دارایی کارایی زیادی در تغییر r است.
۴. سیاست مالی در سیستم نرخ ارز شناور دارایی کارایی زیادی در تغییر r است.

۵- در تحلیل کینز و مکتب کمبریج عامل تعیین کننده تقاضای معاملاتی پول به ترتیب کدامند؟

۱. سطح درآمد- سطح درآمد ۲. سطح درآمد- نرخ بهره
۳. نرخ بهره- سطح درآمد ۴. نرخ بهره- نرخ بهره

تعداد سوالات: تستی: ۴۰ تشریحی: ۰

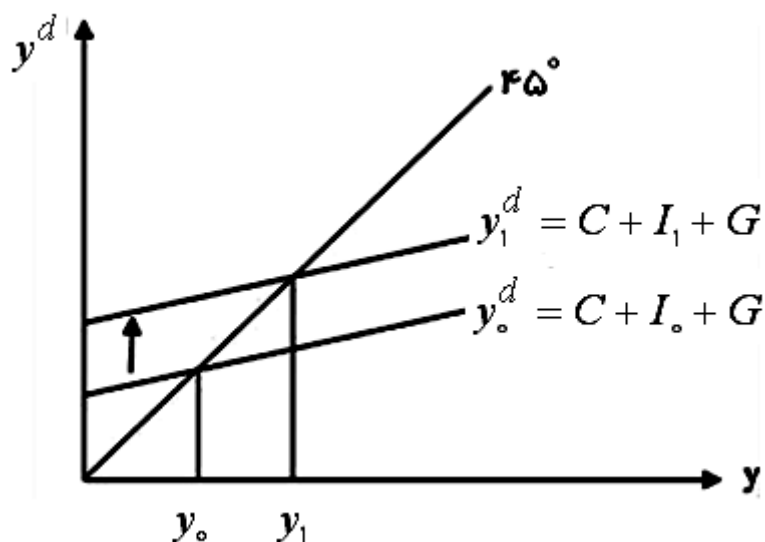
زمان آزمون (دقیقه): تستی: ۱۲۰ تشریحی: ۰

سری سوال: ۱ یک

درس: اقتصاد کلان ۲، اقتصاد کلان میانه ۲

رشته تحصیلی/کد درس: علوم اقتصادی (اقتصاد نظری) (۱۲۲۱۰۸۹ - علوم اقتصادی، علوم اقتصادی (نظری) چندبخشی، اقتصاد اسلامی ۱۲۲۱۱۲۴)

۶- نمودار زیر نشان دهنده کدام گزینه است؟



۱. اثر نرخ تورم بر تعادل بازار کالا
۲. اثر ثروت بر مصرف
۳. اثر نرخ بهره بر تعادل بازار کالا
۴. اثر نرخ دستمزد بر تعادل بازار کار

۷- در چه صورت کارایی سیاست مالی بیش تر می شود؟

۱. در صورتی که منحنی IS کم شیب تر باشد.
۲. در صورتی که منحنی LM عمودی باشد.
۳. در صورتی که منحنی LM پر شیب تر باشد.
۴. در صورتی که منحنی LM کم شیب تر باشد.

۸- کدام گزینه صحیح است؟

۱. در سیستم نرخ ارز ثابت سیاست مالی فاقد کارایی است و سیاست پولی دارای کارایی زیادی است.
۲. در سیستم نرخ ارز شناور سیاست مالی کارایی چندانی ندارد، درحالیکه سیاست پولی دارای کارایی بسیاری است.
۳. در سیستم نرخ ارز شناور سیاست پولی کارایی چندانی ندارد، درحالی که سیاست مالی دارای کارایی بسیاری است.
۴. در سیستم نرخ ارز ثابت سیاست پولی و سیاست مالی فاقد کارایی است.

۹- هرگاه سطح قیمتها تغییر کند کدام گزینه اتفاق می افتد؟

۱. با حرکت بر روی منحنی تقاضای کل یا AD مقدار تقاضای کل تغییر می کند.
۲. منحنی AD به سمت راست جابه جا می شود.
۳. منحنی AD به سمت چپ جابه جا می شود.
۴. منحنی AD به سمت پایین و چپ جابه جا میشود.

تعداد سوالات: تستی: ۴۰ تشریحی: ۰

زمان آزمون (دقیقه): تستی: ۱۲۰ تشریحی: ۰

سری سوال: ۱ یک

درس: اقتصاد کلان ۲، اقتصاد کلان میانه ۲

رشته تحصیلی/کد درس: علوم اقتصادی (اقتصاد نظری) (۱۲۲۱۰۸۹ - علوم اقتصادی، علوم اقتصادی (نظری) چندبخشی، اقتصاد اسلامی ۱۲۲۱۱۲۴

۱۰- اگر تابع تولید به صورت $y = 20N$ ، تابع عرضه نیروی کار $W = 10 + \epsilon N$ و تابع تقاضای نیروی کار $W = 20P - 2N$ باشد. کدام گزینه تابع عرضه کل را نشان می دهد؟

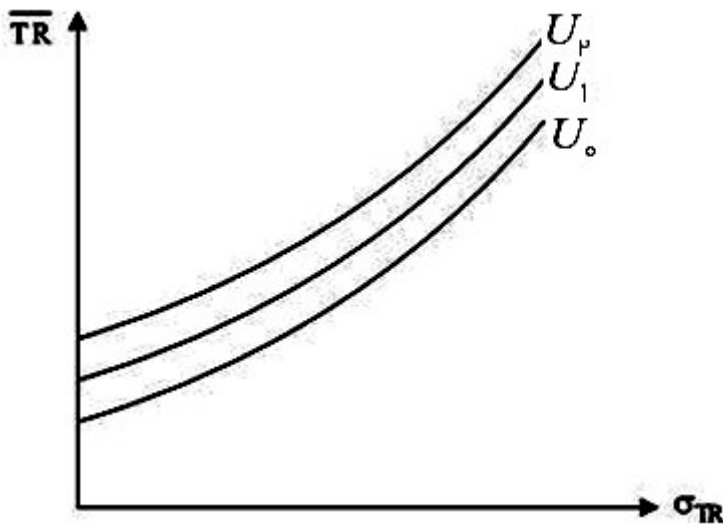
۲. $y = \frac{-400P + 200}{6}$

۱. $y = \frac{400P + 200}{6}$

۴. $y = \frac{400P - 200}{6}$

۳. $y = \frac{400}{6P}$

۱۱- نمودار زیر نشان دهنده کدام گزینه است؟



۱. منحنی های بی تفاوتی برای افراد ریسک پذیر

۲. منحنی های بی تفاوتی برای افراد بی تفاوت نسبت به ریسک

۳. منحنی های بی تفاوتی برای افراد ریسک گریز

۴. منحنی های تولید یکسان

۱۲- اگر سرمایه گذاری کاملاً نسبت به نرخ بهره بی کشش باشد منحنی سرمایه گذاری و منحنی IS به ترتیب چه شکلی دارند؟

۴. افقی-افقی

۳. افقی-عمودی

۲. عمودی-عمودی

۱. عمودی-افقی

۱۳- کدام گزینه واردات القایی را نشان می دهد؟

۴. my

۳. IM

۲. IM-bar

۱. m

تعداد سوالات: تستی: ۴۰ تشریحی: ۰

زمان آزمون (دقیقه): تستی: ۱۲۰ تشریحی: ۰

سری سوال: ۱ یک

درس: اقتصاد کلان ۲، اقتصاد کلان میانه ۲

رشته تحصیلی/کد درس: علوم اقتصادی (اقتصاد نظری) (۱۲۲۱۰۸۹ - علوم اقتصادی، علوم اقتصادی (نظری) چندبخشی، اقتصاد اسلامی ۱۲۲۱۱۲۴)

۱۴- چنانچه درآمد ماهیانه فرد ۱۰۰۰۰، نرخ بهره ماهیانه ۲٪، و هزینه کارمزد ۱۰ باشد، کدام گزینه به ترتیب تعداد بهینه دفعات برداشت از حساب و مقدار بهینه نگهداری پول برای انجام داد و ستد را نشان می دهد؟

۱. ۱۰۰-۱۰ ۲. ۱۰۰۰-۱۰ ۳. ۱۰-۵۰ ۴. ۱۰-۲۰۰

۱۵- فرض کنید تابع مصرف $C = 1000 + 0.8yD$ ، مالیات $T = 100 + 0.2y$ ، پرداخت های انتقالی $TR = 350$ ، $G = 800$ ،

$I = 400 + 0.11y - 200r$ ، $\frac{M^d}{P} = 250 + 0.05y - 400r$ و عرضه اسمی پول $\bar{M}^s = 1600$ باشد. کدام گزینه معادله AD را

نشان می دهد؟

$$y = 550 - 1600P \quad .2$$

$$y = 4550 + \frac{1600}{P} \quad .1$$

$$y = 550 + \frac{1600}{P} \quad .4$$

$$y = 4550 - 1600P \quad .3$$

۱۶- زمانی سیاست پولی را خنثی می نامند یا پول را خنثی می دانند؟

۱. وقتی که بر روی اشتغال اثر ندارد.
۲. وقتی که بر روی هیچ متغیر حقیقی اثر ندارد.
۳. وقتی که بر روی تولید اثر ندارد.
۴. وقتی که بر روی قیمت تأثیر ندارد.

۱۷- اگر در یک بازار پولی تقاضای معاملاتی احتیاطی پول $M_t = 0.2y$ و تقاضای سفته بازی پول $M_a = 100 - 200r$ و

عرضه پول $M_s = 400$ باشد معادله LM کدام است؟

$$Y = 3000 + 200r \quad .2$$

$$Y = 1500 + 1000r \quad .1$$

$$Y = 200r \quad .4$$

$$Y = 1500 - 1000r \quad .3$$

۱۸- در رابطه ارزش پول و واردات می توان گفت:

۱. افزایش ارزش پول داخلی سبب کاهش واردات می شود.
۲. کاهش ارزش پول داخلی موجب کاهش واردات می شود.
۳. افزایش ارزش پول داخلی موجب افزایش واردات نمی شود.
۴. ارزش پول داخلی هیچ رابطه ای با تغییر میزان واردات ندارد.

تعداد سوالات: تستی: ۴۰ تشریحی: ۰

زمان آزمون (دقیقه): تستی: ۱۲۰ تشریحی: ۰

سری سوال: ۱ یک

درس: اقتصاد کلان ۲، اقتصاد کلان میانه ۲

رشته تحصیلی/کد درس: علوم اقتصادی (اقتصاد نظری) (۱۲۲۱۰۸۹ - علوم اقتصادی، علوم اقتصادی (نظری) چندبخشی، اقتصاد اسلامی ۱۲۲۱۱۲۴

۱۹- چنانچه تابع مصرف به صورت $C = 800 + 0.8yD$ ، مالیات به صورت $T = 50 + 0.25y$ ، $TR = 300$ ، $I = 400 - 100r$ و $G = 500$ باشد، کدام گزینه معادله IS را نشان می دهد؟

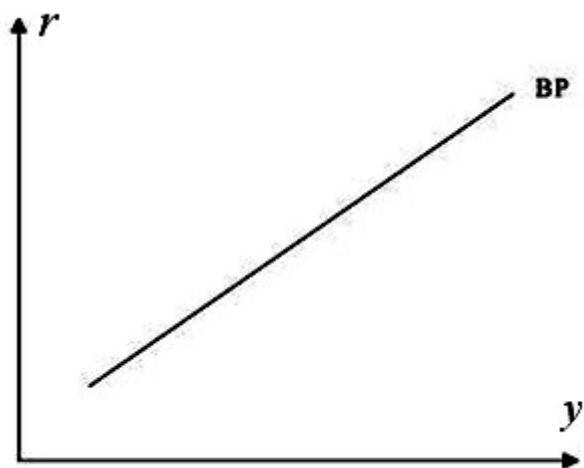
$$y = 4750 + 250r \quad .2$$

$$y = 4750 - 250r \quad .1$$

$$y = 4750 + 200r \quad .4$$

$$y = 4550 + 250r \quad .3$$

۲۰- نمودار زیر در قسمت بالا و سمت چپ نمودار چه وضعیتی وجود دارد؟



۱. تراز پرداخت های خارجی دارای کسری است.
۲. تراز پرداخت های خارجی متعادل است.
۳. اقتصاد داخلی متعادل است.
۴. تراز پرداخت های خارجی دارای مازاد است.

۲۱- اینکه «عرضه تقاضای خود را بوجود می آورد» مربوط به کدام گزینه است؟

۱. اثر کینزی
۲. اثر پیگو
۳. قانون سی
۴. قانون بازده نزولی

۲۲- با افزایش نرخ بهره یا بازدهی دارایی هایی از قبیل اوراق قرضه و سپرده های بلندمدت بانکی کدام گزینه صحیح است؟

۱. سرعت گردش پول افزایش می یابد زیرا نگهداری پول کم هزینه تر می شود.
۲. سرعت گردش پول افزایش می یابد زیرا نگهداری پول پرهزینه تر می شود.
۳. سرعت گردش پول تغییر نمی کند زیرا هزینه نگهداری پول بدون تغییر است.
۴. تقاضای سوداگری برای پول افزایش می یابد.

تعداد سوالات: تستی: ۴۰ تشریحی: ۰

زمان آزمون (دقیقه): تستی: ۱۲۰ تشریحی: ۰

سری سوال: ۱ یک

درس: اقتصاد کلان ۲، اقتصاد کلان میانه ۲

رشته تحصیلی/کد درس: علوم اقتصادی (اقتصاد نظری) (۱۲۲۱۰۸۹) - علوم اقتصادی، علوم اقتصادی (نظری) چندبخشی، اقتصاد اسلامی ۱۲۲۱۱۲۴

۲۳- اگر $I = 500 - 100r$, $G = 600$, $TK = 350$, $T = 100 + 0.12y_d$, $C = 800 + 0.8y_d$

$$\frac{M^{-s}}{P} = 400 \text{ و } \frac{M^d}{P} = 100 + 0.14y - 400r$$
 باشد کدام گزینه معادله LM را نشان می دهد؟

۲. $r = -21 + 0.004y$

۱. $r = -0.75 + 0.001y$

۴. $r = -21 - 0.001y$

۳. $r = 0.75 + 0.001y$

۲۴- چنانچه در حالت کینزی AS منحنی LM در دام نقدینگی باشد یا منحنی IS در حالت عمودی باشد کدام گزینه صحیح است؟

۱. در هر دو صورت AD عمودی است.

۲. سیاست پولی قادر به جابه جایی AD خواهد بود. ج

۳. برخی از اثرات جابه جایی AD اتفاق خواهد افتاد.

۴. تمام اثرات جابه جایی AD اتفاق خواهد افتاد.

۲۵- کدام گزینه صحیح است؟

۱. هر چه میل نهایی به مصرف یا C بزرگتر باشد قدر مطلق شیب AD بیشتر است.

۲. هر چه ضریب نرخ بهره سرمایه گذاری یا b بزرگتر قدر مطلق شیب AD بیشتر است.

۳. هر چه نرخ مالیات یا t کوچکتر باشد، قدر مطلق شیب AD کمتر است.

۴. ضریب نرخ بهره تقاضای پول h کوچکتر باشد، قدر مطلق شیب AD بیشتر است.

۲۶- کدام سیستم نرخ ارز بانک مرکزی در صورت لزوم اقدام به خرید یا فروش ارز میکند تا مانع تغییر نرخ ارز شود؟

۱. سیستم نرخ ارز شناور

۲. سیستم نرخ ارز ثابت

۳. سیستم نرخ ارز شناور مدیریت شده

۴. سیستم نرخ ارز شناور و سیستم نرخ ارز ثابت

۲۷- گزینه صحیح است؟

۱. افزایش موجودی سرمایه سبب جابه جایی تابع تولید به سمت پایین می شود.

۲. افزایش موجودی سرمایه سبب جابه جایی تابع تولید به سمت بالا می شود.

۳. افزایش موجودی سرمایه سبب بازده نزولی نیروی کار می شود.

۴. افزایش موجودی سرمایه سبب بازده نزولی سرمایه و نیروی کار می شود.

تعداد سوالات: تستی: ۴۰ تشریحی: ۰

زمان آزمون (دقیقه): تستی: ۱۲۰ تشریحی: ۰

سری سوال: ۱ یک

درس: اقتصاد کلان ۲، اقتصاد کلان میانه ۲

رشته تحصیلی/کد درس: علوم اقتصادی (اقتصاد نظری) (۱۲۲۱۰۸۹ - علوم اقتصادی، علوم اقتصادی (نظری) چندبخشی، اقتصاد اسلامی ۱۲۲۱۱۲۴)

۲۸- هنگامی که چسبندگی دستمزد اسمی صرفاً به سمت پایین وجود داشته و در ضمن توهم پولی وجود نداشته باشد کدام گزینه صحیح است؟

۱. افزایش سطح قیمتها اشتغال و تولید را افزایش می دهد.

۲. افزایش سطح قیمتها اشتغال را کاهش می دهد ولی اثری بر روی تولید ندارد.

۳. افزایش سطح قیمتها اثری بر روی اشتغال و تولید ندارد.

۴. عرضه کار کمتر از تقاضای کار کاهش می یابد.

۲۹- تابعی که تولید را به صورت تابعی از تفاوت قیمتهای واقعی و انتظاری یا تابعی از تفاوت تورم واقعی و تورم انتظاری بیان میکند چه نام دارد؟

۱. تابع تقاضای لوکاس ۲. تابع عرضه لوکاس ۳. تابع عرضه سی ۴. تابع تقاضای فیلیپس

۳۰- رابطه $\dot{P} = -\beta(u - u_f) + \dot{P}^e$ کدام گزینه را نشان می دهد؟

۱. منحنی فیلیپس ۲. منحنی فیلیپس با لحاظ انتظارات

۳. منحنی فیلیپس کوتاه مدت ۴. منحنی فیلیپس بلند مدت

۳۱- شکل اولیه پول الکترونیکی با ظهور کدام گزینه به وجود آمد؟

۱. دستگاههای خودپرداز (ATM) ۲. کامپیوتر

۳. اینترنت ۴. ماهواره

۳۲- منحنی فیلیپس در شکل اولیه از کدام فرض استخراج شده است؟

۱. توهم کامل پولی در بازار کار و همچنین فرض اینکه نوسانات اقتصاد ناشی از نوسانات تقاضای کل است.

۲. توهم ناقص پولی در بازار کار و همچنین فرض اینکه نوسانات اقتصاد ناشی از نوسانات تقاضای کل است.

۳. عدم وجود توهم پولی در بازار کار و همچنین فرض اینکه نوسانات اقتصاد ناشی از نوسانات تقاضای کل است.

۴. توهم کامل پولی در بازار کار و همچنین فرض اینکه نوسانات اقتصاد ناشی از نوسانات عرضه کل است.

۳۳- با کاهش سطح قیمتها کدام گزینه اتفاق می افتد؟

$$\frac{M^s}{P} > \frac{M^d}{P} \quad ۲. \quad \frac{M^s}{P} = \frac{\bar{M}^s}{P} \quad ۱.$$

۳. نرخ بهره افزایش می یابد. ۴. مقدار سرمایه گذاری کاهش می یابد.

تعداد سوالات: تستی: ۴۰ تشریحی: ۰

زمان آزمون (دقیقه): تستی: ۱۲۰ تشریحی: ۰

سری سوال: ۱ یک

درس: اقتصاد کلان ۲، اقتصاد کلان میانه ۲

رشته تحصیلی/کد درس: علوم اقتصادی (اقتصاد نظری) (۱۲۲۱۰۸۹ - علوم اقتصادی، علوم اقتصادی (نظری) چندبخشی، اقتصاد اسلامی ۱۲۲۱۱۲۴)

۳۴- در تمامی نقاط سمت چپ و بالای LM خط کدام گزینه صحیح است؟

۱. در بازار پول اضافه تقاضا وجود دارد.
 ۲. در بازار کالا اضافه عرضه وجود دارد.
 ۳. در بازار کالا اضافه تقاضا وجود دارد.
 ۴. در بازار پول اضافه عرضه وجود دارد.

۳۵- کدام گزینه صحیح است؟

۱. هرچه منحنی عرضه نیروی کار یا S_N کم شیب تر باشد منحنی AS نیز کم شیب تر است.
 ۲. هر چه منحنی عرضه نیروی کار یا S_N کم شیب تر باشد منحنی AS پرشیب تر است.
 ۳. هر چه منحنی تقاضای نیروی کار کم شیب تر باشد منحنی عرضه کل یا AS نیز پرشیب تر است.
 ۴. هر چه تابع تولید کم شیب تر باشد منحنی عرضه کل یا AS کم شیب تر خواهد بود.

۳۶- در صورت کاهش نرخ تنزیل مجدد کدام گزینه صحیح است؟

۱. قرض گرفتن از بانک مرکزی با هزینه کمتری امکانپذیر است.
 ۲. قرض گرفتن از بانک مرکزی با هزینه بیشتری امکانپذیر است.
 ۳. هزینه قرض گرفتن از بانک مرکزی تغییری نمی کند.
 ۴. حجم پول در گردش کاهش می یابد.

۳۷- بخشی از اثر اولیه افزایش مخارج دولت و سیاست مالی بر روی Y بخاطر افزایش r و کاهش I خنثی می شود این موضوع را در اقتصاد کلان چه نام دارد؟

۱. اثر کینزی
 ۲. اثر پیگو
 ۳. اثر نرخ بهره
 ۴. اثر جایگزینی

۳۸- قیمت گذاری مارک آپ چیست؟

۱. قیمت برابر هزینه نهایی به اضافه درصد حاشیه سود ضربدر هزینه متوسط تولید.
 ۲. قیمت برابر هزینه متوسط به اضافه درصد حاشیه سود ضربدر هزینه نهایی تولید.
 ۳. قیمت برابر هزینه متوسط به اضافه درصد حاشیه سود ضربدر هزینه متوسط تولید.
 ۴. قیمت برابر هزینه متوسط به اضافه درصد حاشیه سود ضربدر درآمد نهایی.

۳۹- فرض کنید عرضه کل به صورت $P = 2 + 0.002Y$ باشد. همچنین فرض کنید در وضعیت دام نقدینگی باشیم و تابع مصرف به صورت $C = 800 + 0.6Y$ تابع سرمایه گذاری به صورت $I = 400 - 100r$ و مخارج دولتی $G = 500$ باشد. کدام گزینه درآمد ملی حقیقی یا تولید حقیقی تعادلی را نشان می دهد؟

۱. ۴۲۱۲
 ۲. ۴۱۲۵
 ۳. ۳۵۰
 ۴. ۱۲۰۰

تعداد سوالات: تستی: ۴۰ تشریحی: ۰

زمان آزمون (دقیقه): تستی: ۱۲۰ تشریحی: ۰

سری سوال: ۱ یک

درس: اقتصاد کلان ۲، اقتصاد کلان میانه ۲

رشته تحصیلی/کد درس: علوم اقتصادی (اقتصاد نظری) (۱۲۲۱۰۸۹ - علوم اقتصادی، علوم اقتصادی (نظری) چندبخشی، اقتصاد اسلامی ۱۲۲۱۱۲۴)

۴۰- افزایش دستمزد هزینه فرصت یا قیمت فراغت را افزایش می دهد و در نتیجه تمایل به فراغت کاهش و تمایل به کارکردن بیشتر میشود این پدیده چه نام دارد؟

۰۲ اثر جانشینی افزایش دستمزد

۰۱ تمزد اثر جانشینی افزایش قیمت

۰۴ اثر درآمدی افزایش دستمزد

۰۳ اثر درآمدی افزایش قیمت